



प्रतिभास्थली

ज्ञानोदय विद्यापीठ

ज्ञानोदय प्रतिभा खोज परीक्षा

अभ्यास प्रश्न पुस्तिका

कक्षा- छठवी

अभ्यास प्रश्न पुस्तिका कक्षा – छठवी

खंड-1 हिंदी परीक्षण

(क) चित्रकला प्रतियोगिता के आयोजन हेतु

समस्त विद्यार्थियों को सूचित किया जाता है कि शाला की ओर से 'बाल दिवस' के अवसर पर चित्रकला प्रतियोगिता आयोजित की जायेगी। यह प्रतियोगिता दिनांक 14 नवम्बर 2024 को प्रातःकाल 10:30 बजे से 1:30 बजे तक शाला के प्रांगण में आयोजित होगी। प्रतियोगिता के इच्छुक सभी विद्यार्थी अपना नाम, कक्षा एवं वर्ग का ब्यौरा कक्षा शिक्षक को दिनांक 12.11.2023 तक अवश्य लिखवा दें।

सचिव (बाल केबिनेट)

प्रश्न 1. चित्रकला प्रतियोगिता कब आयोजित की जाएगी?

- (A) बाल दिवस के अवसर पर
- (B) शिक्षक दिवस के अवसर पर
- (C) पर्यावरण दिवस के अवसर पर
- (D) योग दिवस के अवसर पर

प्रश्न 2. बाल दिवस कब मनाया जाता है?

- (A) 10 नवंबर को
- (B) 12 नवंबर को
- (C) 14 नवंबर को
- (D) 16 नवंबर को

प्रश्न 3. बाल दिवस किसके जन्मदिन पर मनाया जाता है?

- (A) डॉ. अब्दुल कलाम सर्वपल्ली राधाकृष्णन
- (B) डॉ. सर्वपल्ली राधाकृष्णन
- (C) डॉ. राजेंद्र प्रसाद
- (D) पंडित जवाहर लाल नेहरू

प्रश्न 4. बाल दिवस पर कौन-सी प्रतियोगिता का आयोजन किया गया?

- (A) कहानी लिखना
- (B) चित्रकला
- (C) कविता लिखना
- (D) पत्र लिखना

प्रश्न 5. 'प्रांगण' शब्द का समानार्थी शब्द कौन-सा है?

- (A) आंगन
- (B) अंकन
- (C) झंडा
- (D) चन्दन

प्रश्न 6. चित्रकला प्रतियोगिता कितने बजे से आयोजित की जाएगी?

- (A) प्रातः 10:30 बजे से
- (B) प्रातः 10:00 बजे से
- (C) प्रातः 11:00 बजे से
- (D) प्रातः 11:30 बजे से

(ख) निम्नलिखित गद्यांश प्रश्नों के सही उत्तर दीजिए-

कछुआ एक ऐसा जानवर है जो जल और जमीन दोनों जगहों पर रह सकता है। कछुए की 'खाल' इतनी कठोर होती है, कि दूसरे जानवर उसे तोड़ नहीं पाते। जब भी उसे लगता है कि कोई जानवर उसे खाने आ रहा है, तब वह झट से अपना सिर और पैर अपनी खाल के अन्दर कर लेता है। इस तरह उसकी खाल कवच का काम करती है। कछुआ पृथ्वी पर एक मात्र ऐसा जीव है जो सबसे अधिक दिनों तक जिन्दा रहता है। कछुआ अपने भोजन के रूप में जल में रहने वाले कीड़ों एवं छोटी मछलियों को खाता है।

प्रश्न 7. गद्यांश कहानी में किसके बारे में बताया गया है?

- (A) कछुए
- (B) जमीन
- (C) जल
- (D) कवच

प्रश्न 8. कछुआ कहाँ रहता है?

- (A) केवल जल में
- (B) केवल जमीन में
- (C) जल और जमीन दोनों में
- (D) केवल मिट्टी में

प्रश्न 9. दूसरे जानवर कछुए की खाल को क्यों नहीं तोड़ पाते?

- (A) कांटे लगे होने के कारण
- (B) कडुआ होने के कारण
- (C) बेस्वाद होने के कारण
- (D) कठोर होने के कारण

प्रश्न 10. जब कोई जानवर कछुए के पास खाने जाता है, तब कछुआ झट से अपना सिर और पैर अपनी खाल के अन्दर क्यों कर लेता है?

- (A) अपने बचाव के कारण
- (B) गर्मी के कारण

(C) ठंडी के कारण (D) शर्म के कारण
प्रश्न 11. कछुआ झूट से अपना सिर और पैर अपनी खाल के अन्दर कर लेता है। रेखांकित शब्द का आशय है –

- (A) तुरंत (B) बाद में
(C) अचानक (D) एकाएक

(ग) दिए गए विज्ञापन/पोस्टर को ध्यानपूर्वक देखकर प्रश्नों के सही उत्तर दीजिए-

पर्यावरण विभाग द्वारा
जारी विज्ञापन



चलो पेड़ लगाएँ, पर्यावरण स्वच्छ बनाएँ
पौधा लगाओ पेड़ बनाओ,
मिलेंगे रूपये हजार
खुशहाल जीवन सभी का हो
धरती का श्रृंगार।

प्रश्न 12. प्रदर्शित पोस्टर किनके द्वारा जारी किया गया है-

- (A) स्कूल शिक्षा विभाग (B) पंचायत विभाग
(C) जल संसाधन विभाग (D) पर्यावरण विभाग

प्रश्न 13. हजार रूपये कब मिलेंगे?

- (A) पौधे लगाने पर (B) पेड़ काटने पर
(C) पौधा लगाकर पेड़ बनाने में (D) मिट्टी खोदने में

प्रश्न 14. धरती का श्रृंगार किससे होता है?

- (A) कपड़ों से (B) मशीनों से
(C) पेड़ पौधों से (D) इंसानों से

प्रश्न 15. “छोटा पौधा का विलोम क्या है?

- (A) खड़ा पौधा (B) बड़ा पौधा
(C) बैठा पौधा (D) लंबा पौधा

(घ) कहानी पढ़कर प्रश्नों के सही उत्तर दीजिए-

हाथी

एक शहर में एक हाथी रहता था। वह प्रतिदिन दोपहर को नदी में नहाने जाता था। उसके रास्ते में दर्जी की एक दुकान

थी। दर्जी बहुत दयावान था। हाथी उसकी दुकान पर पहुंच कर सूंड उठाकर उसे प्रणाम करता था। दर्जी प्रतिदिन एक केला खाने के लिए देता था। एक दिन दर्जी का लड़का दुकान पर बैठा था। दर्जी उस दिन किसी काम से बाहर गया था। हाथी रोज की तरह दुकान पर आया। उसने लड़के को प्रणाम किया और केला लेने के लिए अपनी सूंड सामने की। लड़के ने उसकी सूंड पर सुई चुभो दी। बेचारा हाथी दर्द के कारण चिघाड़ उठा। फिर उसने नदी में जाकर अपनी सूंड में गन्दा पानी भरा और दर्जीकी दुकान पर आकर पिचकारी की तरह पानी दुकान में फेंक दिया। जिससे दर्जी के कई कपड़े खराब हो गए। दर्जी के लड़के को अपने किये का फल मिल गया।

प्रश्न 16. दर्जी का आचरण था?

- (A) कठोर (B) दयावान
(C) घमंड (D) कंजूस

प्रश्न 17. कहानी में सबसे अंत में क्या हुआ?

- (A) दर्जी ने हाथी को केला खिलाया
(B) दर्जी के लड़के को अपने किये का फल मिला
(C) दर्जी के लड़के ने हाथी की सूंड पर सुई चुभो दी
(D) हाथी ने सूंड में गन्दा पानी भरकर दुकान में फेंक दिया

प्रश्न 18. हाथी दर्जी की दुकान पर पहुंचकर क्या करता था?

- (A) संवाद (B) प्रणाम
(C) पैर फैलाता था (D) कान हिलाता था

प्रश्न 19. हाथी दर्द से क्यों चिघाड़ उठा?

- (A) लड़के ने केला दिया
(B) लड़के ने उसकी सूंड पर सुई चुभो दी
(C) लड़के ने कुछ नहीं दिया
(D) लड़के ने हाथी को मारा

प्रश्न 20. पिचकारी का उपयोग आप कौन से त्यौहार में करते हो?

- (A) हरेली (B) दशहरा
(C) दीपावली (D) होली

खंड-2 गणित परीक्षण

प्रश्न 21. एक बॉक्स में गणित की 14 किताबें रखी हैं, यदि एक किताब का भार 450 ग्राम है, तो बॉक्स में रखी कुल किताबों का भार कितना होगा?

There are 14 mathematics books in a box, if the weight of one book is 450 grams, then what will be weight of total number of books?

- (A) 5300 ग्राम (B) 6300 ग्राम
(C) 7300 ग्राम (D) 4300 ग्राम

प्रश्न 22. नीचे दिए गए प्रश्न में [] के स्थान पर कौन सी संख्या आएगी?

Which number will come in place of [] in the question given below?

$$\frac{32 * [\quad]}{544}$$

- (A) 18 (B) 16
(C) 17 (D) 20

प्रश्न 23. अंकिता ने दुकान से सारणी में दी गई सभी वस्तुएं खरीदी। उसे दुकानदार को 500 रुपए का दो नोट देने के बाद और कितने रुपए देने होंगे?

Ankita bought all the items given in the table from the shop. How many more rupees will she have to pay after giving two Rs 500 notes to the shopkeeper?

चॉकलेट chocolate	173 रु.
कॉपी copy	240 रु.
कम्पास compass	120 रु.
स्कूल बेग school bag	550 रु.

- (A) 73 रुपए (B) 83 रुपए
(C) 93 रुपए (D) 53 रुपए

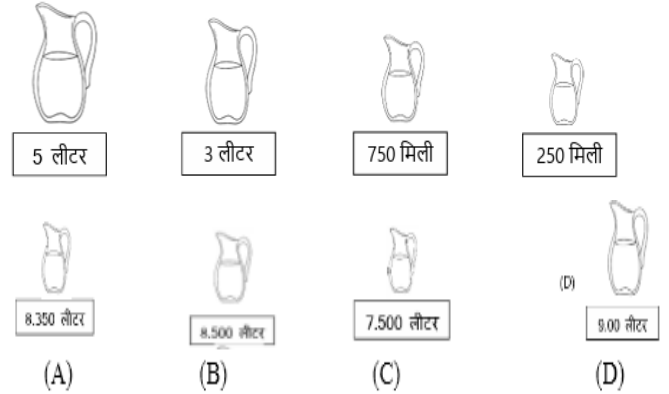
प्रश्न 24. मनोज के पास रु. 2000 के 2 नोट, रु 500 के 3 नोट, रु 200 के 4 नोट एक रु 50 के 6 नोट है। मनोज के पास कुल कितनी राशि है?

Manoj has 2 notes of Rs 2000, 3 notes of Rs 500, 4 notes of Rs 200 and 6 notes of Rs 50. What is the total amount of money Manoj has?

- (A) रु. 6450 (B) रु. 7305
(C) रु. 2525 (D) रु. 660

प्रश्न 25. दिए गए चारों पात्रों में रखे दूध की मात्रा दी गई है। इन चारों पात्रों के दूध को एक बड़े पात्र में रखा जाना है, इसके लिए कौन सा पात्र उपयुक्त होगा?

The quantity of milk kept in the four given containers is given in pic. The milk from these four containers is to be kept in a bigger container, which container would be appropriate?



प्रश्न 26. एक भूखण्ड (प्लॉट) 16 मीटर लम्बा और 12 मीटर चौड़ा है। खेत का क्षेत्रफल होगा?

A plot is 16 meters long and 12 meters wide. What will be the area of the field?

- (A) 180 वर्गमीटर (B) 192 वर्गमीटर
(C) 190 वर्गमीटर (D) 200 वर्गमीटर

प्रश्न 27. रानी 80 रुपये लेकर बाजार (market) जाती है। उसे 15 रुपये का पेन, 35 रुपये की कॉपी और 5 रुपये का रबर खरीदा। अब कम्पास खरीदना चाहती है, जिसका मूल्य 60 रुपये है, तो बताओ रानी को और कितने रुपये चाहिए?

Rani goes to the market with 80 rupees. She has bought a pen worth Rs 15, a notebook worth Rs 35 and an eraser worth Rs 5. Now she wants to buy a compass whose price is Rs 60, then tell me how many more rupees does Rani need?

- (A) 30 रुपये (B) 35 रुपये
(C) 40 रुपये (D) 45 रुपये

प्रश्न 28. पंक्ति में जो समय ज्यादा है उस पर सही का निशान लगाओ – Tick the box which has more time –

(A)	1 घंटा 30 मिनट	
(B)	80 मिनट	
(C)	240 मिनट	
(D)	4 घंटे 30 मिनट	

प्रश्न 29. एक स्कूल के 150 बच्चों ने अपनी रूचियां बताईं कुछ बच्चों ने जवाब नहीं दिया। यदि एक इमोजी 5 बच्चों का प्रतिनिधित्व करता है, तो उन बच्चों का सही चित्रमय प्रतिनिधित्व चुनें जिन्होंने जवाब नहीं दिया?

150 children of a school expressed their interests. Some children did not answer. If one emoji represent 5 kids, then choose the correct graphical representation of the children who did not respond?

नृत्य	😊😊😊😊😊😊😊😊
गायन	😊😊😊😊😊😊
खेल रहे हैं	😊😊😊😊😊😊😊😊😊😊
साहसिक कार्य	😊😊😊😊😊
यात्रा कर रहे हैं	😊😊😊😊😊
कोई जवाब नहीं	?

- (A) 😊😊😊😊😊 (B) 😊😊😊😊😊😊😊😊😊😊
(C) 😊😊😊😊 (D) 😊😊😊😊😊😊😊😊😊😊😊😊😊😊😊

प्रश्न 30. विद्यालय (School) का प्रथम (first) कालखण्ड (time period) 10:00 am को प्रारंभ होता है। प्रथम कालखण्ड 45 मिनट का है, प्रथम कालखण्ड (1st period) समाप्त होने के समय को कौन सी घड़ी (watch) प्रदर्शित करती है?

The first time period of school starts at 10:00 am. first period 45 minutes. Which watch displays the time of end of the first period?



प्रश्न 31. एक रेलगाड़ी रायपुर से बिलासपुर 2 घंटे 20 मिनट में पहुँचती है। शीला 10:20 am को उस रेलगाड़ी में बैठती है, तो शीला बिलासपुर कितने बजे पहुंचेगी ?

A train reaches Bilaspur from Raipur in 2 hours 20 minutes. If Sheela boards the train at 10:20 am. Then at what time will Sheela reach Bilaspur?

- (A) 12:40 Am (B) 12:20 Am
(C) 12:40 pm (D) 12:20 pm

प्रश्न 32. नीचे कुछ फलों (fruit) के चित्र दिए गए हैं, सारिणी (table) बताइए कि सबसे कम और सबसे अधिक संख्या वाले फल के जोड़े कौन सा है?

Pictures of some fruits are given below in the table which one has the lowest and highest number of fruits?

आम	🍌🍌🍌🍌
सेव	🍎🍎🍎🍎🍎
केला	🍌🍌🍌
अनार	🍎🍎🍎🍎🍎🍎🍎

- (A) आम-अनार (B) केला-सेव
(C) केला-आम (D) केला-अनार

प्रश्न 33. एक मजदूर प्रतिदिन 8 घंटे कार्य करता है। यदि उसने दो सप्ताह कार्य किया, तो वह कुल कितने घंटे कार्य करेगा?

A laborer works 8 hours a day. If, he worked for two weeks, how many total hours would he work?

- (A) 80 घंटे (B) 100 घंटे
(C) 112 घंटे (D) 110 घंटे

प्रश्न 34. ग्रीन बोर्ड / ब्लैक बोर्ड में कितने समकोण होते हैं? How many right angles are there in the green board/black board?

- (A) 2 (B) 3
(C) 4 (D) 0

प्रश्न 35. एक विद्यालय में बच्चे द्वारा व्यतीत किए गए समय को चित्र में दर्शाया गया है – बच्चे किस कार्य में सबसे अधिक समय व्यतीत करते हैं?

The time spent by a child in a school is shown in the figure. In which work do the children spend their most of the time?



- (A) भोजन (B) खेल
(C) पढ़ाई (D) बागवानी

प्रश्न 36. संख्या कार्ड उपयोग करके सबसे बड़ी संख्या बनाइए – Frame the biggest number using number cards.



- (A) 6721 (B) 6271 (C) 7621 (D) 6172

प्रश्न 37. बड़े बर्तन में संतरे के रस (orange juice) की मात्रा (quantity) दी गई है उससे 150 मिली लीटर के कितने गिलास भरे जा सकते हैं?

The quantity of orange juice is given in a big vessel, how many glasses of 150 ml can be filled with it?



- (A) 6 गिलास (B) 8 गिलास
(C) 10 गिलास (D) 15 गिलास

प्रश्न 38. $4251 \div 13 = [\quad]$ को हल (solve) करते हुए बताइए कि खाली बाक्स (empty box) में कौन सी संख्या आएगी?

While solving $4251 \div 13 = [\quad]$, tell which number will appear in the empty box?

- (A) 207 (B) 237
(C) 327 (D) 307

प्रश्न 39. नीतू ने एक सेव (apple) के 10 बराबर टुकड़े किए। नीतू ने उनमें से $\frac{2}{10}$ भाग और उसकी बहन राधा ने $\frac{3}{10}$ भाग खा लिए तो बताओ अब सेव के कितने हिस्से शेष बचे हैं?

Neetu cut an apple into 10 equal pieces. If Neetu ate $\frac{2}{10}$ th of them and her sister Radha ate $\frac{3}{10}$ th of them. How many parts of apple are left now?

- (A) $\frac{3}{10}$ (B) $\frac{4}{10}$
(C) $\frac{5}{10}$ (D) $\frac{6}{10}$

प्रश्न 40. नीचे बने चित्र (picture) के आधार पर कितने दसवें भाग हैं? How many tenths are there based on the picture below?



- (A) चार दसवें भाग (B) छः दसवें भाग
(C) आठ दसवें भाग (D) दस दसवें भाग

खंड – 3 पर्यावरण परीक्षण

प्रश्न 41. चीटियों कतार के बीच में स्केल रखकर चीटियों का रोकना तो कुछ चीटियां अपनी कतार से अलग चलने लगती हैं, क्योंकि –

If you block the path of ants by placing a scale in the middle of the line of ants, then some ants move away from their line. It seems because –

- (A) वे घबरा जाती हैं। She gets nervous
(B) वे अपना रास्ता भटक जाती हैं। They lose their way
(C) उन्हें अपने साथी चीटियों की गंध नहीं आती। They do not smell their fellow ants
(D) वे अपने साथियों को ढूँढती हैं। They search for their mates

प्रश्न 42. राहुल बाजार से जलेबी लेकर आया, उसके हाथ से जलेबी नीचे गिर जाती है, कुछ ही समय में चींटियों का झुण्ड उस जलेबी पर जमा हो जाता है। इससे चींटियों के किस गुण का पता चलता है?

Rahul brought Jalebi from the market, Jalebi falls from his hand, within some time a swarm of ants falls on it. Gets accumulated on Jalebi.

Which quality of ants does this reveal?

(A) चींटियों की दृष्टि का तेज होना

Sharpness of vision of ants

(B) चींटियों में संगठन में रहने की भावना

The feeling of living in an organization in ants

(C) चींटियों के सूंघने की तीव्र क्षमता

Strong sense of smell of ants

(D) चींटियों के मिल-बाँटकर खाने की भावना

The feeling of ants eating together

प्रश्न 43. ऐसा पक्षी जिसमें सबसे अधिक ध्वनि सुनने की क्षमता होती है –

The bird which has the maximum capacity to hear sound is –

(A) उल्लू owl (B) चमगादड़ bat

(C) बाज hawk (D) कौआ crow

प्रश्न 44. हमारे देश में नागरिक की पहचान पत्र के लिए उपयोग में आने वाला कार्ड है –

The card used for Citizen Identity Card in our country is –

(A) आधार कार्ड Aadhar Card

(B) क्रेडिट कार्ड Credit Card

(C) ATM कार्ड ATM Card

(द) राशन कार्ड Ration Card

प्रश्न 45. हमारे राष्ट्रीय चिन्ह के नीचे लिखा वाक्य है –

The sentence below our national emblem is written -

(A) वसुधैव कुटुम्बकम् Vasudhev Kutumbakam

(B) सत्यमेव जयते Satyamev Jayate

(C) विद्या ददाति विनयं Vidya Dadati Vinaya

(D) अति सर्वत्र वर्जयते Ati Sarvatra Varjayate

प्रश्न 46. मरुस्थलीय प्रदेशों में बोझा ढोने के लिए जिस जानवर का उपयोग किया जाता है, उसे रेगिस्तान का जहाज कहा जाता है –

The animal which is used to carry burden in desert regions is called ship of the desert -

(A) घोड़ा Horse (B) हाथी Elephant

(C) ऊंट Camel (D) खच्चर Mule

प्रश्न 47. पहाड़ों पर चढ़ते समय सांस लेने के लिए पर्वतारोही किस गैस से भरे सिलिन्डर उपयोग करते हैं?

Which gas is filled in cylinders that is used by mountaineers to breathe while climbing mountains?

(A) नाइट्रोजन Nitrogen

(B) ऑक्सीजन Oxygen

(C) सल्फर Sulfur

(D) कार्बन डाइऑक्साइड Carbon dioxide

प्रश्न 48. पुराने समय में शीघ्र सन्देश भेजने के लिए _____ उपयोग किया जाता था

_____ was used to send quick messages in ancient times.

(A) चिट्ठी (letter) (B) पोस्टकार्ड postcard

(स) अंतर्देशीय (inland) (द) टेलीग्राम telegram

प्रश्न 49. यदि आपको कोई अनुचित ढंग से स्पर्श कर रहा है तो –

If someone is touching you inappropriately –

(A) आप चुप रहेंगे You will remain silent

(B) किसी कभी नहीं बताएंगे Will not tell anyone

(C) उसे बताएंगे जिस पर आप सबसे ज्यादा भरोसा करते हैं Will tell the person whom you trust the most

(D) स्वयं को दोष देंगे Will blame oneself

प्रश्न 50. हॉकी का खेल है – The game of hockey is –

(A) केवल लड़कियों के लिए Only for girls

(B) केवल लड़कों के लिए Only for boys

(C) दोनों के लिए for both

(D) किसी के लिए नहीं for neither

प्रश्न 51. सूखा पड़ने (वर्षा की कमी) से सबसे ज्यादा प्रभावित होता है – Most affected by drought (lack of rainfall) is –

- (A) वकील Lawyer (B) डॉक्टर Doctor
(C) किसान Farmer (D) शिक्षक Teacher


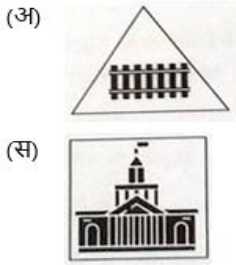
प्रश्न 52. ऐसा स्थान जहाँ लुप्त होते जंगली जानवरों एवं पशु-पक्षियों को सुरक्षित रखा जाता है, कहलाता है –

A place where endangered wild animals and birds are kept safe is called –

- (A) जंगल (forest)
(B) राष्ट्रीय उद्यान (National Park)
(C) अभ्यारण (sanctuary)
(D) बगीचा (Garden)

प्रश्न 53. मोहन को अपने घर से विद्यालय तक जाने का नक्शा बनाना है तब आप नक्शे में सड़क को किस संकेत चिन्ह के माध्यम से दर्शाएँगे

Mohan has to make a map to go from his home to school, then through which symbol will you show the road in the map? –



प्रश्न 54. सूखा पड़ने का कारण है – The reason for drought is –

- (A) जल के प्राकृतिक स्रोत की कमी
Lack of natural source of water
(B) भूकंप आना Earthquake
(C) अधिक वर्षा का होना Excessive rainfall
(D) तूफान आना Storm coming

प्रश्न 55. चित्र देखकर बताइये कि आप सबसे अधिक कौन-सा कार्य करते हैं?

Which work do you do the most in the picture given below?



- (A) दुग्ध उत्पादन Milk production
(B) पशुपालन Animal husbandry
(C) धान खेती Paddy cultivation
(D) गन्ने की खेती Sugarcane cultivation

प्रश्न 56. केंचुआ, किसान का मित्र है, क्योंकि –

Earthworm is a friend of the farmer because it –

- (A) मिट्टी की उर्वरता को बढ़ाता है
Increases the fertility of soil
(B) किसानों का मनोरंजन करता है
Entertains the farmers
(C) अन्य जीवों को खा जाता है
Eats other living beings

(D) किसानों को काटता है Bites the farmers

प्रश्न 57. आशा के पिताजी शिल्पकार हैं। वे मिट्टी के बर्तन बनाकर बेचते हैं। घर खर्च के बाद जो भी पैसा बचता है उसे वे जमा करते हैं –

Asha's father is a craftsman. They make clay pots and sell them. Whatever money is left after household expenses, they deposit it in –

(A) पुलिस थाने में In the police station
(B) पंचायत में In the panchayat
(C) बैंक में In the bank
(D) अस्पताल में In the hospital

प्रश्न 58. डॉक्टर द्वारा किया जाने वाला कार्य है –

- The work done by a doctor is –
(A) रोगी का आधार कार्ड बनाना
Making Aadhaar card of the patient
(B) रोगी का पैन कार्ड बनाना
Making PAN card of the patient
(C) रोगी का मतदाता कार्ड बनाना
Making voter card of the patient

(D) रोगी का आधार कार्ड बनाना
Making Aadhaar card of the patient

(A) रोगी का आधार कार्ड बनाना
Making Aadhaar card of the patient

(B) रोगी का पैन कार्ड बनाना
Making PAN card of the patient

(C) रोगी का मतदाता कार्ड बनाना
Making voter card of the patient

(D) रोगी का आधार कार्ड बनाना
Making Aadhaar card of the patient

(A) रोगी का आधार कार्ड बनाना
Making Aadhaar card of the patient

(D) रोगी का उपचार करना Treating the patient.

प्रश्न 59. दिये गये भवन के चित्र में देखकर बताइये की यह किस संस्थान का है?

Which institution is shown in this picture?



(अ) कचहरी Court (ब) स्कूल School

(स) डाकघर Post Office (द) बैंक Bank

प्रश्न 60. ऐसा खाता जिसमें जमा पैसों को जब चाहे निकाला जा सके, वह है –

An account in which deposited money can be withdrawn anytime is –

(A) मियादी खाता Term Account

(B) सावधि खाता Fixed Account

(C) चालू खाता Current Account

(D) बचत खाता Savings Account

प्रश्न 61. भूकंप प्रभावित क्षेत्र मुख्य स्वास्थ्य संबंधी सुविधाएँ देने वाली संस्था है-

The main organization providing health related facilities in earthquake affected areas is-

(अ) WHO (ब) IPL

(स) BPL (द) WWW

प्रश्न 62. प्रोटीन का स्रोत है – The source of protein is-

(A) दालें Pulses (B) पीज़ा Pizza

(C) बर्गर Burger (D) रोटी Roti

प्रश्न 63. जहाँ पानी के जहाज ठहरते हैं उस जगह को क्या कहा जाता है? What is the place called where ships stop?

Digit	7	2	1	5	3	9	8	6	4
Letter	W	L	M	S	I	N	D	J	B

(A) हवाई अड्डा Airport

(B) बस अड्डा Bus stand

(C) रेल्वे अड्डा Railway station

(D) बन्दरगाह Harbour

प्रश्न 64. अधिक दूरी तय करने के हिसाब से इनमें से सबसे सस्ता यातायात संसाधन कौन-सा है?

Which of the following is the cheapest transport resource in terms of covering long distances?

(A) सड़क परिवहन Road transport

(B) वायु परिवहन Air transport

(C) जल परिवहन Water transport

(D) भूमिगत (मेट्रो) Underground (metro)

प्रश्न 65. चित्र को ध्यान से देखिए – ऐसा फल जिसमें बीज हैं, जो पाचक शक्ति को बढ़ाने वाला है

Look at the picture carefully – A fruit which has seeds, which increases the digestive power.



(A) सेब

(B) पपीता

(C) इमली

(D) आम

खंड – 4 मानसिक अभिरुचि

प्रश्न 66. निम्नलिखित में से तीन कुछ प्रकार से एक जैसे हैं और इसलिए एक समूह बनाते हैं। वह कौन सा है जो उस समूह से संबंधित नहीं है।

Three of the following are alike in certain way and so form a group. Which is the one that does not belong to that group.

(A) Mother (B) Grandfather

(C) Father (D) Wife

प्रश्न 67. नीचे दिए गए प्रश्न की संख्या को निम्नलिखित कोड में कोडित किया जाना है। 1846 का कोड क्या है?

The number in question below is to be codified in the following code. What is the code for 1846?

(A) MDNJ

(B) MDBJ

(C) MJDB

(D) MJBD

प्रश्न 68. नीचे दिए गए शब्दों को सार्थक क्रम में व्यवस्थित करें।

Arrange the words given below in a meaningful sequence.

1. प्रस्तुति Presentation 2. सिफारिश Recommendation
आगमन Arrival 4. चर्चा Discussion
5. परिचय Introduction

- (A) 5,3,4,1,2 (B) 3,5,4,2,1
(C) 3,5,1,4,2 (D) 5,3,1,2,4

प्रश्न 69. निम्नलिखित को तार्किक क्रम में व्यवस्थित करें:
Arrange the following in a logical order:

(from bottom to top)

1. कंधा Shoulder 2. कलाई Wrist 3. कोहनी Elbow
4. हथेली Palm 5. उंगली Finger

- (A) 5,3,4,1,2 (B) 3,5,4,2,1
(C) 3,5,1,4,2 (D) 5,3,1,2,4

प्रश्न 70. नीचे दिए गए शब्दों को सार्थक क्रम में व्यवस्थित करें।

Arrange the words given below in a meaningful sequence.

1. हाथी Elephant 2. बिल्ली Cat
3. मच्छर Mosquito 4. बाघ Tiger 5. व्हेल Whale

- (A) 5,3,1,2,4 (B) 3,2,4,1,5
(C) 1,3,5,4,2 (D) 2,5,1,4,3

प्रश्न 71. एक लड़की ने एक लड़के का परिचय अपने चाचा के पिता की बेटी के बेटे के रूप में दिया। लड़का लड़की का है।

A girl introduced a boy as the son of the daughter of the father of her uncle. The boy is girl's

- (A) Brother (B) Son
(C) Uncle (D) Son-in-law

प्रश्न 72. छह व्यक्ति A, B, C, D, E और F हैं। C, F की बहन है। B, E के पति का भाई है। D, A का पिता और F का दादा है। समूह में दो पिता, तीन भाई और एक माँ हैं। माँ कौन है?

There are six persons A, B, C, D, E and F. C is the sister of F. B is the brother of E's husband. D is the father of A and grandfather of F. There are

two fathers, three brothers and a mother in the group. Who is the mother ?

3. (A) A (B) B
(C) C (D) E

प्रश्न 73. A B C D E F G H I J K L M N O P Q R S T U V W X Y Z .

इस वर्णमाला में कौन सा अक्षर, अक्षर के दाईं ओर आठवां अक्षर है और वर्णमाला के अंतिम लेकिन एक अक्षर के बाईं ओर दसवां अक्षर कौन सा है?

Which letter in this alphabet is the eighth letter to the right of the letter and which is tenth letter to the left of the last but one letter of the alphabet?

- (A) X (B) W
(C) I (D) H

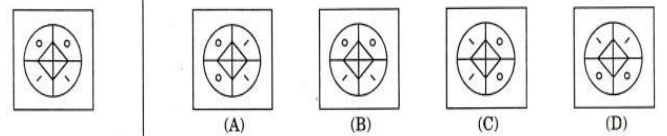
प्रश्न 74 इन शब्दों को वर्णानुक्रम में व्यवस्थित करें और सबसे अंत में आने वाले शब्द पर निशान लगाएं।

Arrange these words in alphabetical order and tick the one that comes last.

1. Abandon 2. Actuate
3. Accumulate 4. Acquit 5. Achieve
(A) Actuate (B) Accumulate
(C) Acquit (D) Achieve

प्रश्न 75. निम्नलिखित में से तीन एक निश्चित तरीके से समान हैं और इसलिए एक समूह बनाते हैं। वह कौन सा है जो उस समूह से संबंधित नहीं है?

Three of the following are alike in certain way and so form a group. Which is the one that does



not belong to that group?

- (A) Sharpener (B) कैलकुलेटर Calculator
(C) रबर Eraser (D) पेंसिल Pencil

प्रश्न 76. कप : होंठ :: पक्षी : ? Cup : Lip :: Bird : ?

- (A) घास Grass (B) जंगल Forest

(C) चोंच Beak (D) झाड़ी Bush

प्रश्न 77. विश्व का बेजोड़ युग्म चुनें। Choose the odd pair of world.

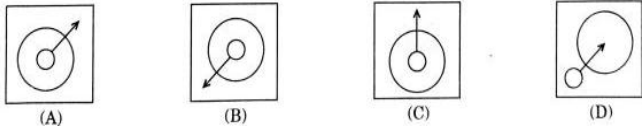
- (A) शहद: पैसा Honey : Money
(B) जंग: कलगी Rust :Crest
(C) नौ: सुतली Nine : Twine
(D) आग: झूठा Fire :Liar

प्रश्न-78 घास : कटाव :: बांध : ?
Grass : Erosion :: Dam : ?

- (A) पानी Water (B) जमना Freeze
(C) करंट Current (D) बारिश Rain

प्रश्न-79 (ए), (बी), (सी) और (डी) दिए गए हैं। इन चार आकृतियों में से तीन आकृतियाँ किसी तरह से समान हैं और एक आकृति भिन्न है। उस आकृति का चयन करें जो भिन्न है।

(a), (b), (c) and (d) are given. Out of these four figures, three figures are alike in some way and one figure is different. Select the shape that is different.



प्रश्न 80 बाईं ओर एक प्रश्न आकृति दी गई है और दाईं ओर (ए), (बी), (सी) और (डी) चिह्नित चार उत्तर आकृतियां दी गई हैं। उस उत्तर आकृति का चयन करें जो प्रश्न आकृति के बिल्कुल समान है

A question figure is given on the left side and four answer figures marked (A), (B), (C) and (D) are given on the right side. Select the answer figure which is exactly the same as the question figure

- (A) (B) (C) (D)

प्रश्न-81 नीचे दिए गए प्रश्न की संख्या को निम्नलिखित कोड में कोडित किया जाना है। 9341 का कोड क्या है?

The number in question below is to be codified in the following code. What is the code for 9341?

Digit	7	2	1	5	3	9	8	6	4
Letter	W	L	M	S	I	N	D	J	B

- (A) NDBS (B) WBIM
(C) NIBM (D) NBIM

प्रश्न-82 निम्नलिखित में से तीन एक निश्चित तरीके से समान हैं और इसलिए एक समूह बनाते हैं। वह कौन सा है जो उस समूह से संबंधित नहीं है ?

Three of the following are alike in certain way and so form a group. which is the one that does not belong to that group?

- (A) Tree (B) Plant (C) Shrub (D) Farm

प्रश्न-83 खुशबू मनोरंजन पार्क के सम्मुख है। वह समुद्र तट की ओर मुख करने के लिए वामावर्त दिशा में मुड़ती है, वह किस कोण से घूमी?

Khushboo is facing the Amusement park. She turns in anti-clockwise direction to face the beach,

What angle did she turn through?

- (A) 45 degree (B) 135 degree
(C) 225 degree (D) 315 degree



प्रश्न-84 अंतरिक्ष स्कूल के सम्मुख है। यदि वह 270° दक्षिणावर्त घूम जाए तो उसे क्या सामना करना पड़ेगा?

Antriksh is facing the School. What would he be facing if he turns 270° clockwise?



(A) Sports club (B) Market

(C) Bus stand (D) Mall

प्रश्न-85 यदि तान्या यश के दक्षिण में है और यश आरती के पूर्व में है, तो तान्या के संबंध में आरती किस दिशा में है?

If Tanya is in the South of Yash and Yash is in the East of Aarti, then in which direction is

Aarti with respect to Tanya?

(A) South (B) South-West

(C) North- West (D) North-East

प्रश्न-86 दी गई आकृति में सीधी रेखाओं की न्यूनतम संख्या क्या है?

What is the minimum number of straight lines

in the given figure?

(A) 10 (B) 7 (C) 5 (D) 8



प्रश्न-87 नीचे दिए गए शब्दों को सार्थक क्रम में व्यवस्थित करें।

Arrange the words given below in a meaningful sequence.

1. एड़ी Heel 2. कंधा Shoulder

3. खोपड़ी Skull 4. गर्दन Neck

5. घुटना Knee 6. छाती Chest

7. जांघ Thigh 8. पेट Stomach

9. चेहरा Face 10. हाथ Hand

(A) 3,4,7,9,2,5,8,10,6,1 (B) 3,9,4,2,10,6,8,7,5,1

(C) 2,4,7,10,1,5,8,9,6,3 (D) 4,7,10,1,9,6,2,5,8,3

प्रश्न-88 Complete the series: 2, 5, 9, 20, 27

(A) 16 (B) 18 (C) 24 (D) 14

प्रश्न-89 'ए' पश्चिम की ओर 5 किमी चला, बायीं ओर मुड़ा और 3 किमी चला, दायें मुड़ा और 9 किमी चला। वह तो उत्तर की ओर 3 किमी की यात्रा की। अब प्रारंभिक बिंदु से 'A' कितनी दूर है?

'A' travelled Westwards 5 km, turned left and travelled 3 km, turned right and travelled 9 km. He then travelled North 3 km. How far was 'A' from the starting point now ?

(A) 3 kms

(B) 5 kms

(C) 10 kms

(D) 14 kms

प्रश्न-90 P, Q और R का भाई है। S, R की माँ है। T, P का पिता है। निम्नलिखित में से कौन सा कथन निश्चित रूप से सत्य नहीं हो सकता है?

P is the brother of Q and R. S is R's mother. T is P's father. Which of the following statements cannot be definitely true?

(A) T is Q's father (B) S is P's mother

(C) P is S's son (D) Q is T's son

खंड – 5 अंग्रेजी परीक्षण

Do as directed.

प्रश्न-91. Fill up the blanks with suitable subject or object.

i. _____ bought apples to make jam.

ii. I write a _____.

प्रश्न-92. Fix these sentences so the verb agrees with the noun.

i. The basketball player _____ (lift) weights to stay strong.

ii. After school, he _____ (will goes) to the library to study.

iii. Rabindranath Tagore _____ many Poems. (write/ writes)

प्रश्न-93. Join the word parts and write the word.

a	b
i. spec	isionA
ii. comp	enium
iii. coll	ive
iv. mill	anion
v. act	ific

प्रश्न-94. Write in commas where needed.

Tuesday March 21 2018

प्रश्न-95. Put the words in the correct order.

i. a student chair sat the on.



ii. toys Please, away your put.

प्रश्न-96. Opinion paragraph writing. Tell us what you think: What is the best food?

प्रश्न-97. Write “common” or “proper” next to each noun:

a. Central Park _proper_____

b. class __Common_____

प्रश्न-98. Circle the pronoun that can replace the underlined words.

Charles puts the books on the table.

(A) It (B) Me (C) Us (D) He

प्रश्न-99. James has two cats. (Underline the noun)

प्रश्न-100. Unscramble the words.

(A) sretde (B) lcebicy

ज्ञानोदय प्रतिभा खोज परीक्षा

अभ्यास उत्तर पुस्तिका

कक्षा – छठवीं



प्रश्न	उत्तर
1	A
2	C
3	D
4	B
5	A
6	A
7	A
8	C
9	D
10	A
11	A
12	D
13	A
14	C
15	B
16	B
17	D
18	B
19	B
20	D

21	D
22	C
23	B
24	A
25	D
26	B
27	A
28	D
29	A
30	a
31	C
32	D
33	C
34	C
35	C
36	C
37	C
38	C
39	C
40	C

41	C
42	C
43	A
44	A
45	B
46	C
47	B
48	A
49	C
50	C
51	C
52	C
53	D
54	A
55	C
56	A
57	C
58	D
59	B
60	C
61	A
62	A
63	D
64	C
65	B

66	D
67	B
68	C
69	D
70	B
71	A
72	D
73	B
74	A
75	B
76	A
77	C
78	A
79	D
80	B
81	C
82	C
83	B
84	A
85	C
86	B
87	B
88	D
89	D
90	D

91	I Ram , ii A Letter
92	Lifts Will go writes
93	i. specific ii.companion iii. active millenium
94	Tuesday, March, 21 2018
95	i. A student sat on a chair ii. Please put away your toys.
96.	Good food is yummy and healthy for our bodies. It helps us grow big and strong. Fruits like apples, oranges, and strawberries have many vitamins. Vegetables like carrots, broccoli, and spinach are also very good. They help our bodies fight germs.
97.	i. proper ii. Common
98.	Option d.(he)
99.	James, Cat
100.	i. Desert ii bicycle